

A RECONQUISTA CRISTÃ

As dificuldades em reconquistar as terras em poder dos _____, fez com que os reis cristãos pedissem ajuda a outros reinos da _____.


A pedido de **D. Afonso VI**, rei de _____, vieram ajudar muitos cavaleiros cristãos, os _____. Entre eles chegaram **D. Raimundo** e seu primo **D. Henrique de Borgonha**.



Como se destacaram na luta contra os _____, D. Afonso VI deu-lhes em recompensa:

➤ a D. _____ – a sua filha D. Urraca em casamento e o Condado da _____

➤ a D. Henrique – a sua filha ilegítima D. _____ em casamento (1093) e o Condado _____ (1096)



A CONQUISTA DA INDEPENDÊNCIA DE PORTUGAL

Cronologia:


_____ – nascimento de

D. Afonso Henriques



_____ – morte de D. Henrique; como D. Afonso Henriques tinha apenas _____ anos, foi a sua _____, D. Teresa, que ficou a governar.

1125 – D. Afonso Henriques é _____ pelo seu aio, o cavaleiro E_____ M_____, e arma-se a si próprio _____, como só os reis o faziam, na Catedral de Z_____.



1128 – D. A_____ H_____ revolta-se contra a sua mãe, porque não concorda com a sua ligação amorosa com o conde _____, Fernão Peres de Trava e derrota as tropas de D. Teresa na Batalha de S. M_____, passando a governar o Condado Portucalense, com sede em _____.

_____ – Paz de Tuy assinada entre D. Afonso Henriques e seu primo D. Afonso VII que o reconhece como rei.

1139 – D. Afonso Henriques vence os _____ na Batalha de _____.



1143 – D. Afonso Henriques assina o tratado de paz de _____ com seu primo D. Afonso VII, que o reconhece como rei



1179 – o papa _____ reconhece o Reino de Portugal, através da bula “Manifestis Probatum”




A CONQUISTA DO TERRITÓRIO DE PORTUGAL

Depois da assinatura do tratado de paz, D. Afonso Henriques instala-se em C_____ e inicia a conquista do território.




Em _____, conquista **Leiria**, garantindo a segurança do território para norte da zona de Coimbra, permitindo a deslocação para sul.

Em **1147**, conquista **S**_____ e **L**_____, assim como outras terras (Óbidos, Alenquer, Sintra, Sesimbra, Palmela) ao longo do rio T_____, onde fixa a fronteira.



Em seguida avança para sul em direcção ao Alentejo. Em _____, quando D. Afonso Henriques morre, quase todo o Alentejo está conquistado.

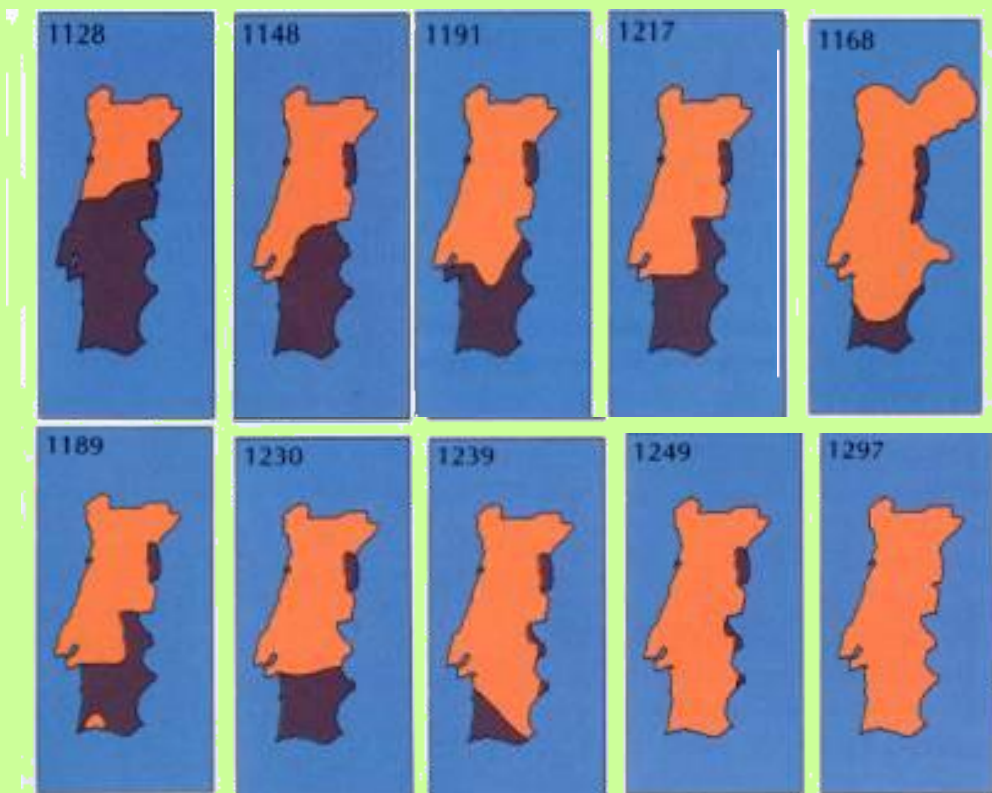
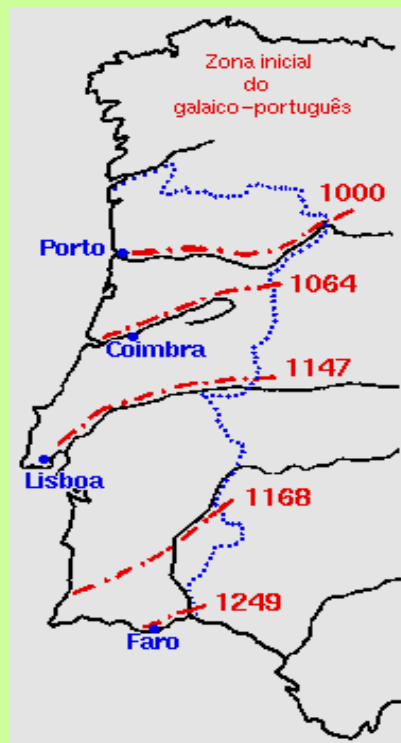
Os reis seguintes, D. S_____ I, D. _____ II, D. _____ II e D. _____ III continuam a conquista do território.



Em _____, **D. Afonso III** conquista o **A_____**.

Contudo, a fronteira só fica definida com o **Tratado de A_____**, em **1297**, assinado entre **D. Dinis** e **D. Fernando**, rei de Leão e Castela.


A CONQUISTA DO TERRITÓRIO



OS CASTELOS E AS ARMAS DE ATAQUE



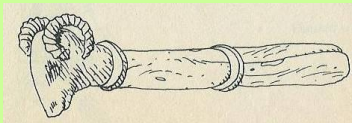
escada de assalto



arma de arremesso



ariete



catapulta




arqueiro



besteiros

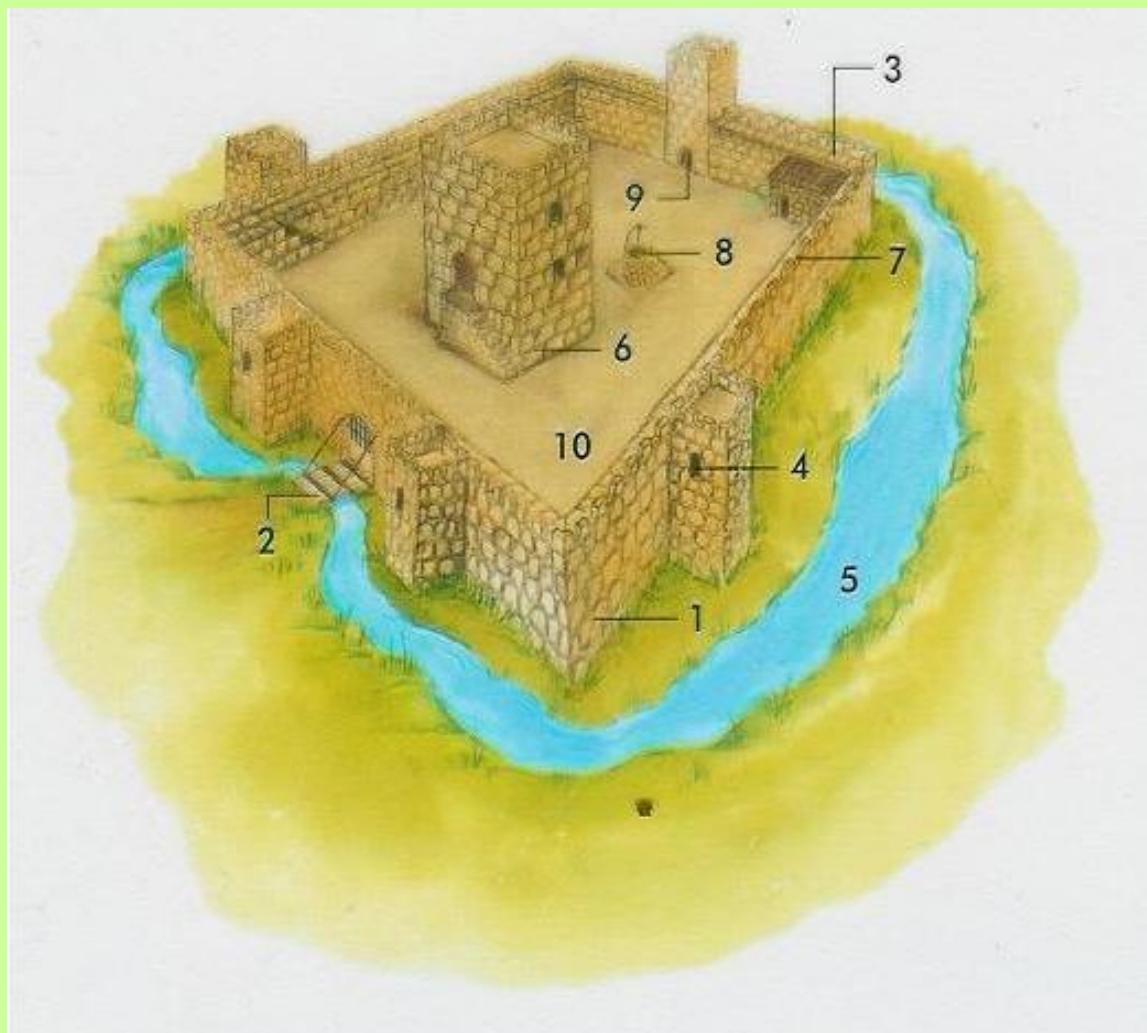


besta



torre de assalto

AS ZONAS DO CASTELO



- 1- Muralha.
- 2- Ponte levadiça.
- 3- Caminho de ronda.
- 4- Seteiras.
- 5- Fosso.
- 6- Torre de menagem.
- 7- Ameia.
- 8- Cisterna.
- 9- Porta de traição.
- 10- Praça de armas.

